

*Prova di Matematica: Piano cartesiano e retta*

**1. Dato il fascio di rette di equazione  $kx + (k - 2)y + k - 3 = 0$ , determina:**

- la retta **a** del fascio parallela all'asse  $x$  ;
- la retta **b** del fascio passante per il punto  $P(-3 ; 1)$ ;
- la retta **c** del fascio passante per l'origine degli assi cartesiani;
- la retta **d** del fascio perpendicolare alla retta  $y = 2x - 5$  ;

**2. Dati nel piano cartesiano i punti:  $A(-2 ; 1)$ ,  $B(6 ; -5)$  e  $C(1 ; 5)$ , determina:**

- la rappresentazione grafica del triangolo ABC;
- il perimetro del triangolo ABC;
- l'area del triangolo ABC;
- i vertici del triangolo  $A'B'C'$  ottenuto dalla traslazione di vettore  $\vec{v} (6 , 1)$  del triangolo ABC .

**3. Per il noleggio settimanale di un'automobile è possibile scegliere fra tre diverse agenzie:**

- l'agenzia "Azzurra" chiede una quota fissa di 12€ e una tariffa di 0,75€ al kilometro percorso;
- l'agenzia "Rossa" chiede una quota fissa di 18€ e una tariffa di 0,50€ al kilometro percorso;
- l'agenzia "Verde" chiede una quota fissa di 39€ e kilometri illimitati;

**Stabilisci qual è la tariffa più conveniente, in relazione al numero di kilometri percorsi.**

# Soluzione

1. Dato il fascio di rette di equazione  $kx + (k - 2)y + k - 3 = 0$ , determina:

- e. la retta **a** del fascio parallela all'asse  $x$ ;
- f. la retta **b** del fascio passante per il punto  $P(-3; 1)$ ;
- g. la retta **c** del fascio passante per l'origine degli assi cartesiani;
- h. la retta **d** del fascio perpendicolare alla retta  $y = 2x - 5$ ;

## Soluzione

a. La retta **a** del fascio parallela all'asse si ottiene quando il coefficiente della variabile  $x$  è nullo, cioè per  $k = 0$ . Sostituendo tale valore nell'equazione del fascio si ottiene:

$$0x + (0 - 2)y + 0 - 3 = 0; \quad -2y - 3 = 0; \quad 2y + 3 = 0; \quad y = -\frac{3}{2}.$$

b. La retta **b** del fascio passante per il punto  $P(-3; 1)$  si ottiene imponendo il passaggio per il punto  $P$ :

$$k \cdot (-3) + (k - 2) \cdot 1 + k - 3 = 0; \quad -3k + k - 2 + k - 3 = 0; \quad -k - 5 = 0; \quad k = -5.$$

Sostituendo tale valore nell'equazione del fascio si ottiene:

$$-5x + (-5 - 2)y - 5 - 3 = 0; \quad -5x - 7y - 8 = 0.$$

c. La retta **c** del fascio passante per il punto  $O(0; 0)$  si ottiene imponendo il passaggio per l'origine:

$$k \cdot 0 + (k - 2) \cdot 0 + k - 3 = 0; \quad k - 3 = 0; \quad k = 3.$$

Sostituendo tale valore nell'equazione del fascio si ottiene:

$$3x + (3 - 2)y + 3 - 3 = 0; \quad 3x + y = 0; \quad y = -3x.$$

d. La retta **d** del fascio perpendicolare alla retta  $y = 2x - 5$  si ottiene ponendo  $m_f = -\frac{1}{m_d}$ .

$$m_f = -\frac{a}{b} = -\frac{k}{k-2} \quad m_d = 2.$$

Si ricava:

$$-\frac{k}{k-2} = -\frac{1}{2}; \quad \frac{k}{k-2} = \frac{1}{2}; \quad 2k = k - 2; \quad k = -2.$$

Sostituendo tale valore nell'equazione del fascio si ottiene:

$$-2x + (-2 - 2)y - 2 - 3 = 0; \quad -2x - 4y - 5 = 0; \quad 2x + 4y + 5 = 0; \quad y = -\frac{1}{2}x - \frac{5}{4}.$$

2. Dati nel piano cartesiano i punti:  $A(-2; 1)$ ,  $B(6; -5)$  e  $C(1; 5)$ , determina:

- la rappresentazione grafica del triangolo ABC;
- il perimetro del triangolo ABC;
- l'area del triangolo ABC;
- i vertici del triangolo  $A'B'C'$  ottenuto dalla traslazione di vettore  $\vec{v}(6, 1)$  del triangolo ABC.

Soluzione A

$$\overline{AB} = \sqrt{(x_A - x_B)^2 + (y_A - y_B)^2} = \sqrt{(-2 - 6)^2 + (1 + 5)^2} = \sqrt{64 + 36} = \sqrt{100} = 10.$$

$$\overline{BC} = \sqrt{(x_B - x_C)^2 + (y_B - y_C)^2} = \sqrt{(6 - 1)^2 + (-5 - 5)^2} = \sqrt{25 + 100} = \sqrt{125} = \sqrt{25} \cdot \sqrt{5} = 5\sqrt{5}.$$

$$\overline{AC} = \sqrt{(x_A - x_C)^2 + (y_A - y_C)^2} = \sqrt{(-2 - 1)^2 + (1 - 5)^2} = \sqrt{9 + 16} = \sqrt{25} = 5.$$

Pertanto il perimetro del triangolo ABC è:

$$p = \overline{AB} + \overline{BC} + \overline{AC} = 10 + 5\sqrt{5} + 5 = 15 + 5\sqrt{5}.$$

Soluzione B.1

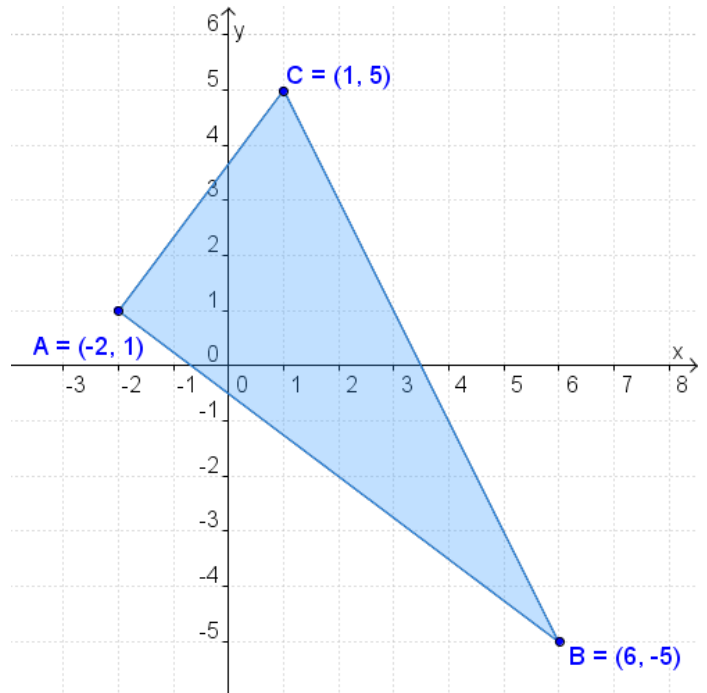
L'area del triangolo ABC è data da:

$$S = \frac{1}{2} \cdot \begin{vmatrix} x_A & y_A & 1 \\ x_B & y_B & 1 \\ x_C & y_C & 1 \end{vmatrix} =$$

$$= \frac{1}{2} \cdot \begin{vmatrix} -2 & 1 & 1 \\ 6 & -5 & 1 \\ 1 & 5 & 1 \end{vmatrix} = \frac{1}{2} \cdot \begin{vmatrix} -2 & 1 & 1 & -2 & 1 \\ 6 & -5 & 1 & 6 & -5 \\ 1 & 5 & 1 & 1 & 5 \end{vmatrix} =$$

$$= \frac{1}{2} \cdot [(10 + 1 + 30) - (-5 - 10 + 6)] =$$

$$= \frac{1}{2} \cdot [41 + 9] = \frac{1}{2} \cdot 50 = 25.$$



Soluzione B.2

Le misure dei lati del triangolo formano una terna pitagorica:

$$\overline{AB}^2 + \overline{AC}^2 = \overline{BC}^2; \quad 10^2 + 5^2 = (\sqrt{125})^2; \quad 100 + 25 = 125.$$

Pertanto l'area del triangolo è data dal semiprodotto dei due cateti:

$$S_{ABC} = \frac{1}{2} \cdot \overline{AB} \cdot \overline{AC} = \frac{1}{2} \cdot 10 \cdot 5 = 25.$$

Soluzione C

Le equazioni della traslazione

sono:

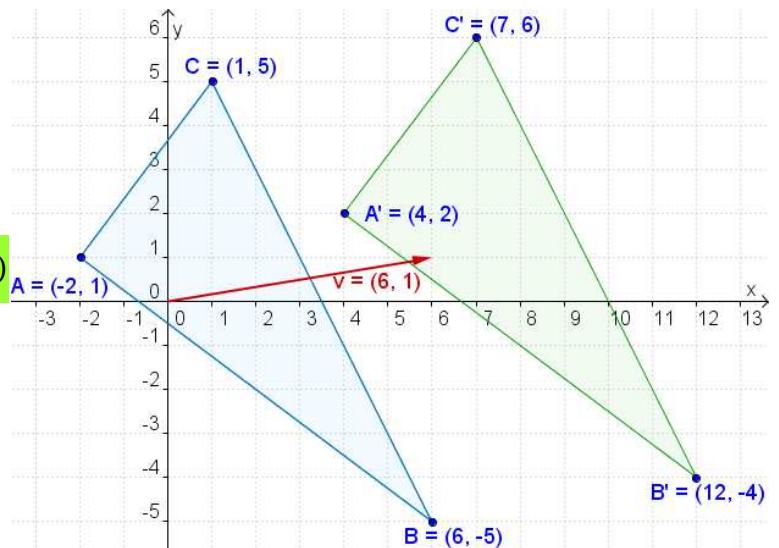
$$\begin{cases} x' = x + 6 \\ y' = y + 1 \end{cases}$$

I vertici del triangolo  $A'B'C'$  sono:

$$A(-2; 1) \quad \begin{cases} x' = -2 + 6 = 4 \\ y' = 1 + 1 = 2 \end{cases} \Rightarrow A'(4; 2)$$

$$B(6; -5) \quad \begin{cases} x' = 6 + 6 = +12 \\ y' = -5 + 1 = -4 \end{cases} \Rightarrow B'(12; -4)$$

$$C(1; 5) \quad \begin{cases} x' = 1 + 6 = +7 \\ y' = 5 + 1 = +6 \end{cases} \Rightarrow C'(7; 6)$$



3. Per il noleggio settimanale di un'automobile è possibile scegliere fra tre diverse agenzie:

- l'agenzia "Azzurra" chiede una quota fissa di 12€ e una tariffa di 0,75€ al kilometro percorso;
- l'agenzia "Rossa" chiede una quota fissa di 18€ e una tariffa di 0,50€ al kilometro percorso;
- l'agenzia "Verde" chiede una quota fissa di 39€ e kilometri illimitati;

Stabilisci qual è la tariffa più conveniente, in relazione al numero di kilometri percorsi.

Soluzione

Indichiamo con  $x$  il numero di kilometri percorsi e con  $y$  la corrispondente spesa. Con  $x \in \mathbb{N}$ .

La tariffa dell'agenzia "Azzurra" è espressa dalla funzione lineare:  $y = 0,75x + 12$ ;  $y = \frac{3}{4}x + 12$ ;

La tariffa dell'agenzia "Rossa" è espressa dalla funzione lineare:  $y = 0,50x + 18$ ;  $y = \frac{1}{2}x + 18$ ;

La tariffa dell'agenzia "Verde" è espressa dalla funzione lineare:  $y = 39$ .

Tracciamo i grafici delle tre funzioni lineari:

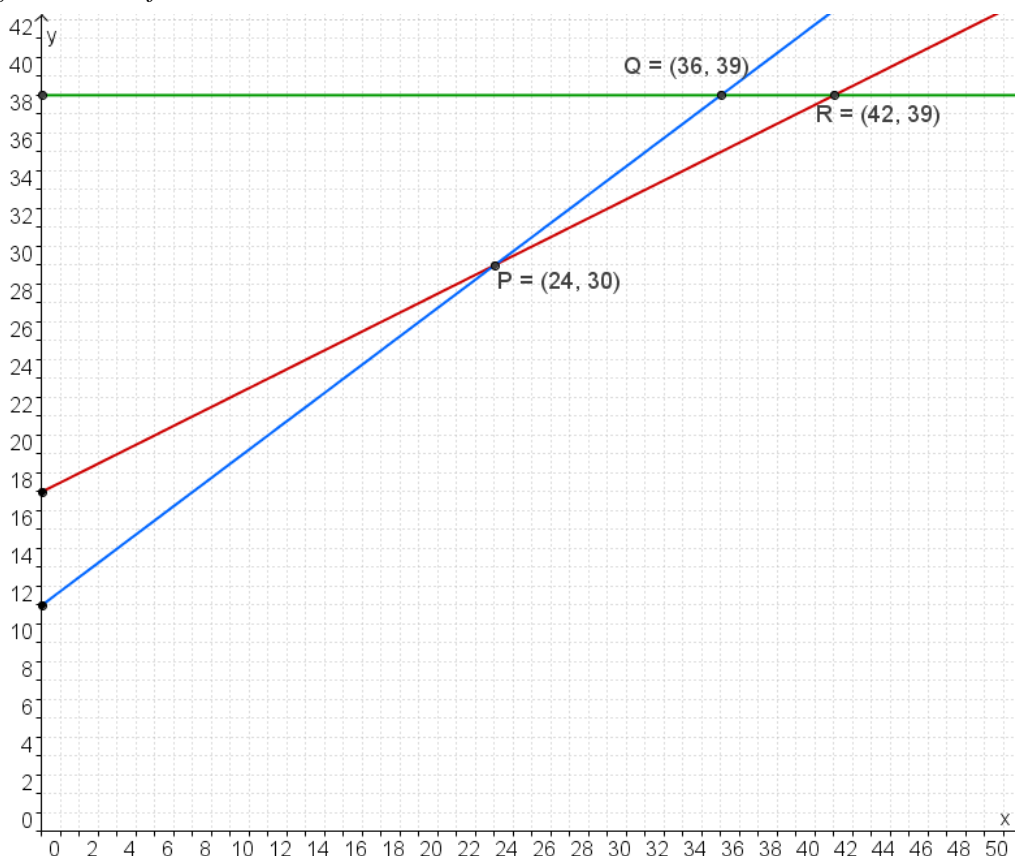
Determiniamo i punti di intersezione fra le tre funzioni lineari:

$$A \begin{cases} y = \frac{3}{4}x + 12 \\ y = \frac{1}{2}x + 18 \end{cases} \quad \begin{cases} \frac{3}{4}x + 12 = \frac{1}{2}x + 18 \\ - \\ \frac{1}{4}x = 6 \\ x = 24 \end{cases} \quad \begin{cases} 3x + 48 = 2x + 72 \\ - \\ x = 24 \end{cases} \quad \begin{cases} x = 24 \\ y = 30 \end{cases} \Rightarrow P(24; 30)$$

$$A \begin{cases} y = \frac{3}{4}x + 12 \\ y = 39 \end{cases} \quad \begin{cases} \frac{3}{4}x + 12 = 39 \\ - \\ \frac{3}{4}x = 27 \\ x = 36 \end{cases} \quad \begin{cases} 3x + 48 = 156 \\ - \\ 3x = 108 \\ x = 36 \end{cases} \quad \begin{cases} x = 36 \\ y = 39 \end{cases} \Rightarrow Q(36; 39)$$

$$R \begin{cases} y = \frac{1}{2}x + 18 \\ y = 39 \end{cases} \quad \begin{cases} \frac{1}{2}x + 18 = 39 \\ - \\ \frac{1}{2}x = 21 \\ x = 42 \end{cases} \quad \begin{cases} x + 36 = 78 \\ - \\ x = 42 \end{cases} \quad \begin{cases} x = 42 \\ y = 39 \end{cases} \Rightarrow R(42; 39)$$

Tracciamo poi i grafici delle tre funzioni lineari:



Dall'analisi dei grafici si ottiene:

Per  $0 < x < 24$

è più conveniente l'agenzia "Azzurra";

Per  $24 < x < 42$

è più conveniente l'agenzia "Rossa";

Per  $x > 42$

è più conveniente l'agenzia "Verde";

Per  $x = 24$

è indifferente scegliere l'agenzia "Azzurra" o l'agenzia "Rossa";

Per  $x = 42$

è indifferente scegliere l'agenzia "Rossa" o l'agenzia "Verde".