

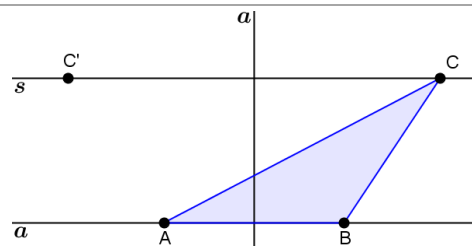
1. ABC è uno degli infiniti triangoli aventi la base AB sulla retta r e il terzo vertice in un punto qualunque della retta s parallela a r e passante per C . Fra gli infiniti triangoli descritti sopra, quali hanno la stessa area di ABC ?

soltanto il triangolo ABC' , simmetrico di ABC rispetto all'asse di AB

soltanto il triangolo isoscele di base AB

soltanto il triangolo rettangolo in A e il triangolo rettangolo in B

tutti gli infiniti triangoli di base AB

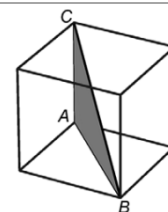


2. Nella figura è rappresentato un cubo il cui spigolo misura 1 m.
Quanto misurano i lati del triangolo ABC?

$\overline{AC} =$

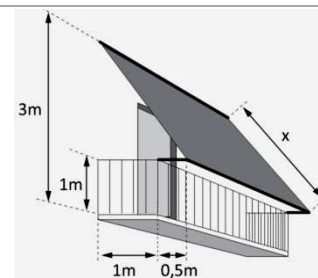
$\overline{AB} =$

$\overline{BC} =$



3. Occorre confezionare una tenda da sole per il balcone in figura. La tenda deve essere fissata al muro a 3 m di altezza dal pavimento del balcone, che è largo 1 m. La tenda deve sporgere 0,5 m dalla ringhiera che è alta 1 m.
Determina la lunghezza x della tenda.

$x =$



4. La dimensione di un televisore è la misura della diagonale dello schermo espressa in pollici (1 pollice = 2,54 cm). Nei televisori di nuova generazione il rapporto tra la larghezza e l'altezza dello schermo è 16:9.

a. Se la larghezza dello schermo di uno di questi televisori è circa 57,5 cm, qual è all'incirca la sua altezza? $h = \dots$

b. Da quanti pollici è il televisore? *Numero pollici* = \dots

5. In ciascuna delle seguenti figure, determina il valore incognito

6. Risolvi i seguenti problemi sui triangoli.

Nel triangolo rettangolo ABC , $\overline{AB} = 12 \text{ cm}$ e $\overline{BC} = 20 \text{ cm}$. Determina l'area del triangolo rettangolo ABH .

Il trapezio $ABDE$ ha una superficie di 192 cm^2 . Sapendo che le basi misurano $\overline{AB} = 20 \text{ cm}$ e $\overline{DE} = 12 \text{ cm}$, determina l'area del triangolo ABC .

In un triangolo rettangolo il rapporto fra un cateto e la sua proiezione sull'ipotenusa è $\frac{5}{4}$. Sapendo che il perimetro del triangolo è 480 m , determina l'area del triangolo.

7. Un trapezio rettangolo è circoscritto a una circonferenza. Sapendo che l'altezza del trapezio misura 6 cm e la base minore misura 4 cm, calcola la misura del perimetro del trapezio.

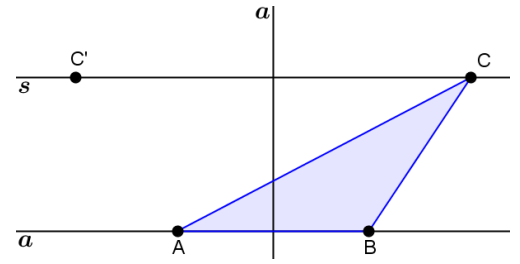
8. Un triangolo rettangolo avente il cateto $\overline{AC} = 6 \text{ cm}$ e l'ipotenusa $\overline{BC} = 10 \text{ cm}$ è circoscritto a un semicirconfenza. Determina la misura del raggio ?

Valutazione	Esercizio											Totale
	Punti	A1	A2	A3	A4	A5	A6	A7	A8	Punti		
	2	3	4	6	15	30	10	10	80			

Punti	0 - 3	4 - 8	9 - 13	14 - 19	20 - 25	26 - 31	32 - 37	38 - 43	44 - 49	50 - 55	56 - 61	62 - 67	68 - 72	73 - 76	77 - 80
Voto	2	3	3½	4	4½	5	5½	6	6½	7	7½	8	8½	9	10

Soluzione

1. ABC è uno degli infiniti triangoli aventi la base AB sulla retta r e il terzo vertice in un punto qualunque della retta s parallela a r e passante per C . Fra gli infiniti triangoli descritti sopra, quali hanno la stessa area di ABC ?



□ tutti gli infiniti triangoli di base AB

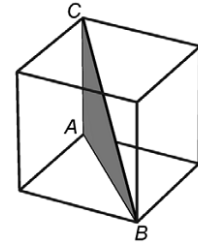
2. Nella figura è rappresentato un cubo il cui spigolo misura 1 m.

Quanto misurano i lati del triangolo ABC ?

$$\overline{AC} = 1 \text{ m}$$

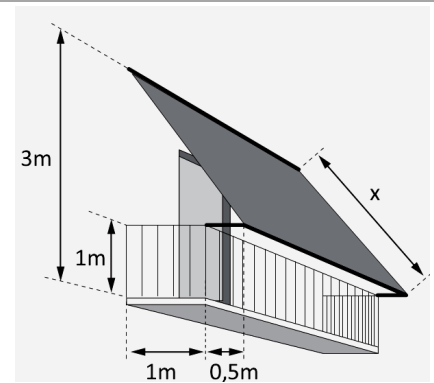
$$\overline{AB} = \overline{AC} \cdot \sqrt{2} \text{ m} = \sqrt{2} \text{ m}$$

$$\overline{BC} = \sqrt{\overline{AB}^2 + \overline{AC}^2} = \sqrt{(\sqrt{2})^2 + 1^2} \text{ m} = \sqrt{1+2} \text{ m} = \sqrt{3} \text{ m}$$



3. Occorre confezionare una tenda da sole per il balcone in figura. La tenda deve essere fissata al muro a 3 m di altezza dal pavimento del balcone, che è largo 1 m. La tenda deve sporgere 0,5 m dalla ringhiera che è alta 1 m.

$$x = \sqrt{2^2 + 1,5^2} \text{ m} = \sqrt{4 + 2,25} \text{ m} = \sqrt{6,25} \text{ m} = 2,5 \text{ m}$$



4. La dimensione di un televisore è la misura della diagonale dello schermo espressa in pollici (1 pollice = 2,54 cm). Nei televisori di nuova generazione il rapporto tra la larghezza e l'altezza dello schermo è 16:9.

- Se la larghezza dello schermo di uno di questi televisori è circa 57,5 cm, qual è la sua altezza ?
- Da quanti pollici è il televisore?

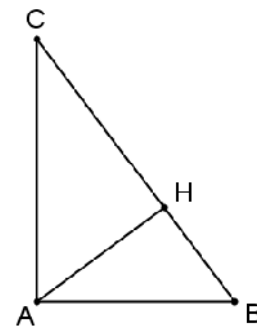
$$h = \frac{9}{16} \cdot 57,5 = \text{cm } 32,34375$$

$$d = \sqrt{57,5^2 + 32,34^2} \text{ cm} = \sqrt{4352,37} \text{ cm} \approx 66 \text{ cm} = \frac{66}{2,54} \text{ pollici} \approx 26 \text{ pollici}.$$

5. In ciascuna delle seguenti figure, determina il valore di x

$PC : PA = PB : PD$ $PD = \frac{PA \cdot PB}{PC} = \frac{3 \cdot 40}{4} = 30$	$PC : PT = PT : PD$ $PT = \sqrt{PC \cdot PD} = \sqrt{39 \cdot 12} = \sqrt{468} = 6\sqrt{13}$	$PC : PA = PB : PD$ $(x + 15) : 6 = 36 : x$ $x \cdot (x + 15) = 6 \cdot 36$ $x^2 + 15x - 216 = 0$ $PD = 9$

6.1. Nel triangolo rettangolo a lato, $\overline{AB} = 12 \text{ cm}$ e $\overline{BC} = 20 \text{ cm}$. Determina l'area del triangolo rettangolo ABH .



Soluzione 1

Applicando il T. di Pitagora al triangolo ABC si ha:

$$\overline{AC} = \sqrt{\overline{BC}^2 - \overline{AB}^2} = \sqrt{20^2 - 12^2} \text{ cm} = \sqrt{400 - 144} \text{ cm} = \sqrt{256} \text{ cm} = 16 \text{ cm}$$

$$\overline{AH} = \frac{\overline{AB} \cdot \overline{AC}}{\overline{BC}} = \frac{12 \cdot 16}{20} \text{ cm} = 9,6 \text{ cm}$$

Applicando il T. di Pitagora al triangolo ABH si ha:

$$\overline{BH} = \sqrt{\overline{AB}^2 - \overline{AH}^2} = \sqrt{12^2 - (9,6)^2} \text{ cm} = \sqrt{144 - 92,16} \text{ cm} = \sqrt{51,84} \text{ cm} = 7,2 \text{ cm}$$

Pertanto: $S_{AHB} = \frac{\overline{BH} \cdot \overline{AH}}{2} = \frac{7,2 \cdot 9,6}{2} \text{ cm}^2 = 34,56 \text{ cm}^2$.

Soluzione 2

Applicando il T. di Pitagora: $\overline{AC} = \sqrt{\overline{BC}^2 - \overline{AB}^2} = \sqrt{20^2 - 12^2} \text{ cm} = \sqrt{400 - 144} \text{ cm} = \sqrt{256} \text{ cm} = 16 \text{ cm}$

$$S_{ABC} = \frac{\overline{AB} \cdot \overline{AC}}{2} = \frac{12 \cdot 16}{2} \text{ cm}^2 = 96 \text{ cm}^2$$

Dalla similitudine dei triangoli ABC e ABH (\hat{B} in comune e $\hat{BAC} \cong \hat{AHB} = 90^\circ$) si ha:

$$S_{ABH} : S_{ABC} = \overline{AB}^2 : \overline{BC}^2; \quad S_{ABH} : 96 = 12^2 : 20^2; \quad S_{ABH} = \frac{96 \cdot 144}{400} \text{ cm}^2 = 34,56 \text{ cm}^2$$

6.2. Il trapezio ABDE ha una superficie di 192 cm^2 . Sapendo che le basi misurano $\overline{AB} = 20 \text{ cm}$ e $\overline{DE} = 12 \text{ cm}$, determina l'area del triangolo ABC.

Soluzione

L'altezza del trapezio è: $\overline{AE} = \frac{2 \cdot S_{ABDE}}{\overline{AB} + \overline{DE}} = \frac{2 \cdot 192}{20 + 12} \text{ cm} = 12 \text{ cm}$.

Ponendo $\overline{CE} = x \Rightarrow \overline{AC} = x + 12$

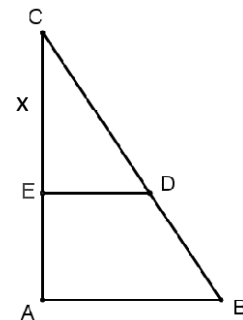
Dalla similitudine dei triangoli rettangoli ABC e CDE ($\hat{B} \cong \hat{CDE}$ e $\hat{BAC} \cong \hat{CED} = 90^\circ$) si ha:

$$\overline{AB} : \overline{DE} = \overline{AC} : \overline{CE}; \quad 20 : 12 = (x + 12) : x; \quad 20x = 12 \cdot (x + 12);$$

$$20x = 12x + 144; \quad 8x = 144; \quad x = \frac{144}{8} = 18$$

Pertanto: $\overline{CE} = 18 \text{ cm} \Rightarrow \overline{AC} = (18 + 12) \text{ cm} = 30 \text{ cm}$.

L'area è: $S_{ABC} = \frac{\overline{AB} \cdot \overline{AC}}{2} = \frac{20 \cdot 30}{2} \text{ cm}^2 = 300 \text{ cm}^2$.



6.3. In un triangolo rettangolo il rapporto fra un cateto e la sua proiezione sull'ipotenusa è $\frac{5}{4}$. Sapendo che il perimetro del triangolo è 480 m , determina l'area del triangolo.

$$\begin{cases} p_{ABC} = 480 \text{ m} \\ \overline{AC} = \frac{5}{4} \overline{CH} \end{cases} \quad S_{ABC} = ?$$

Soluzione

Ponendo $\overline{CH} = x$, con dominio di variabilità: $x > 0$, si ha: $\overline{AC} = \frac{5}{4}x$

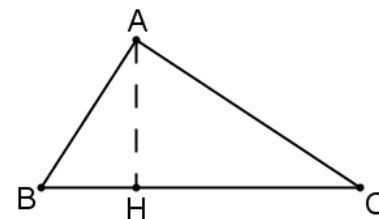
Applicando il 1° T di Euclide si ha: $\overline{AC}^2 = \overline{BC} \cdot \overline{CH} \Rightarrow \overline{BC} = \frac{\overline{AC}^2}{\overline{CH}} = \frac{\frac{25}{16}x^2}{x} = \frac{25}{16}x$

Inoltre: $\overline{AB} = \sqrt{\overline{BC}^2 - \overline{AC}^2} = \sqrt{\frac{625}{256}x^2 - \frac{25}{16}x^2} = \sqrt{\frac{625 - 400}{256}x^2} = \sqrt{\frac{225}{256}x^2} = \frac{15}{16}x$.

Utilizzando il perimetro $p = 480 \text{ m}$ si ottiene:

$$\overline{AB} + \overline{BC} + \overline{AC} = 480; \quad \frac{15}{16}x + \frac{25}{16}x + \frac{5}{4}x = 480; \quad 15x + 25x + 20x = 7680$$

$$60x = 7680; \quad x = 128 \Rightarrow \overline{CH} = 128 \text{ m}.$$

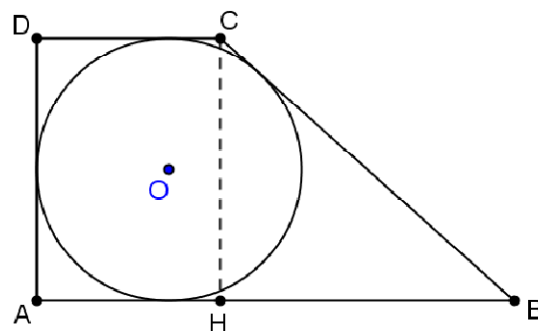


Quindi: $\overline{AC} = \frac{5}{4} \cdot 128 \text{ cm} = 160 \text{ m}$

$\overline{AB} = \frac{15}{16} \cdot 128 \text{ cm} = 120 \text{ m}$

Pertanto l'area del triangolo è: $S_{ABC} = \frac{1}{2} \cdot \overline{AB} \cdot \overline{AC} = \left(\frac{1}{2} \cdot 120 \cdot 160\right) \text{ cm}^2 = 9600 \text{ m}^2$.

7. Un trapezio rettangolo è circoscritto a una circonferenza. Sapendo che l'altezza del trapezio misura 6 cm e la base minore misura 4 cm, calcola la misura del perimetro del trapezio.



Soluzione

Ponendo $\overline{BH} = x \Rightarrow \overline{AB} = x + 4$.

Ricordando che un quadrilatero è circoscrivibile a una circonferenza se la somma di due lati opposti è congruente alla somma degli altri due lati, si ha:

$\overline{AD} + \overline{BC} = \overline{AB} + \overline{CD}$; $6 + \overline{BC} = x + 4 + 4$; $\overline{BC} = x + 2$

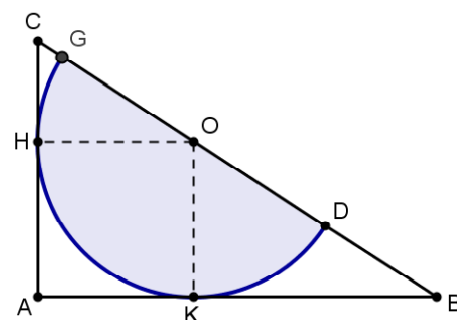
Applicando il T. di Pitagora al triangolo rettangolo BCH si ha:

$\overline{BC}^2 = \overline{CH}^2 + \overline{BH}^2$; $(x + 2)^2 = 6^2 + x^2$; $x^2 + 4 + 4x = 36 + x^2$; $4x = 32$; $x = 8$.

Pertanto $\overline{BH} = 8 \text{ cm}$, $\overline{AB} = 12 \text{ cm}$, $\overline{BC} = 10 \text{ cm}$

$2p = \overline{AB} + \overline{BC} + \overline{CD} + \overline{AD} = (12 + 10 + 4 + 6) \text{ cm} = 32 \text{ cm}$.

8. Un triangolo rettangolo avente il cateto $\overline{AC} = 6 \text{ cm}$ e l'ipotenusa $\overline{BC} = 10 \text{ cm}$ è circoscritto a un semicirconfenza. Determina la misura del raggio ?



Soluzione

Determiniamo la misura dell'altro cateto:

$\overline{AB} = \sqrt{\overline{BC}^2 - \overline{AC}^2} = \sqrt{35^2 - 21^2} \text{ cm} = \sqrt{1225 - 441} \text{ cm} = \sqrt{784} \text{ cm} = 8 \text{ cm}$.

Ponendo il raggio $\overline{OH} = \overline{OK} = x$ con $0 < x < 6$

$\Rightarrow \overline{CH} = 6 - x$ e $\overline{BK} = 8 - x$.

Dalla similitudine dei due triangoli $CHO \sim BKO$ si ha:

$\overline{CH} : \overline{OK} = \overline{OH} : \overline{BK}$; $(6 - x) : x = x : (8 - x)$; $x^2 = (6 - x)(8 - x)$;

$x^2 = 48 - 6x - 8x + x^2$; $14x = 48$; $x = \frac{48}{14} = \frac{24}{7}$;

Pertanto il raggio $r = \frac{24}{7} \text{ cm}$.