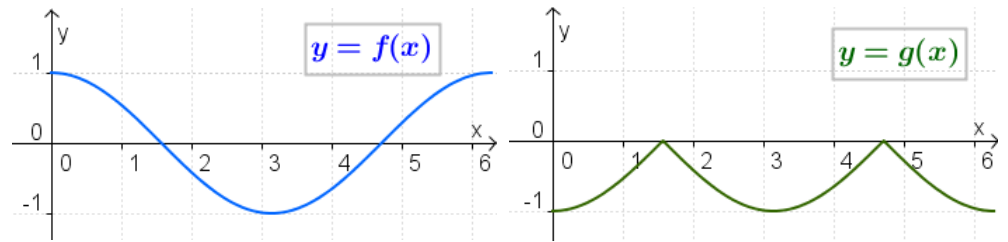


1. Nei grafici a lato sono rappresentate le funzioni $y = f(x)$ e $y = g(x)$.

Quale delle seguenti relazioni è compatibile con le informazioni deducibili dai grafici così disegnati?

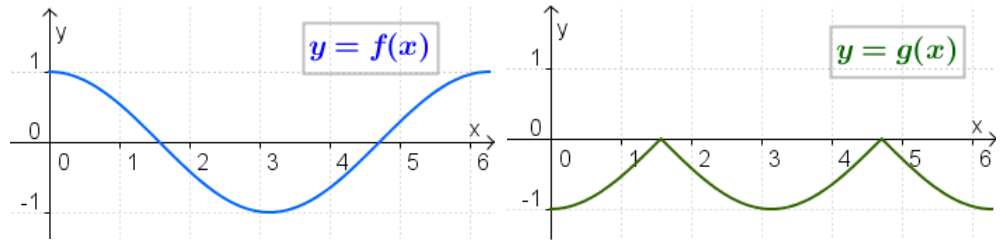


- | | | |
|--|---|---|
| <input type="checkbox"/> $g(x) = f(x) $ | <input type="checkbox"/> $g(x) = -f(x) $ | <input type="checkbox"/> $g(x) = - f(x) $ |
| <input type="checkbox"/> $g(x) = f(x)$ | <input type="checkbox"/> $g(x) = -f(x)$ | <input type="checkbox"/> $g(x) = f(-x)$ |
2. Determina l'equazione della curva simmetrica di quella di equazione $x^2 + y^2 - 2x - 1 = 0$ rispetto:
- | | |
|------------------------------------|---|
| a. all'asse x | c. rispetto all'origine degli assi cartesiani |
| b. alla retta di equazione $x = 2$ | d. alla bisettrice del I e III quadrante |
3. I punti $A(1; -2)$ e $A'(2; -4)$ si corrispondono in una traslazione. Determina:
- le equazioni della traslazione;
 - le componenti del vettore di traslazione;
 - l'equazione della funzione $y = f'(x)$ ottenuta trasladando la funzione $y = f(x)$ di equazione $y = -3x^2 + 1$ secondo il vettore trovato;
 - i grafici delle funzioni $y = f(x)$, $y = f'(x)$, $y = |f(x)|$.
4. Calcola la somma: $100^2 - 99^2 + 98^2 - 97^2 + \dots + 2^2 - 1$
5. Partendo da 2, quanti numeri pari consecutivi si devono sommare per ottenere 1260 ?

Soluzione

1. Nei grafici a lato sono rappresentate le funzioni $y = f(x)$ e $y = g(x)$.

Quale delle seguenti relazioni è compatibile con le informazioni deducibili dai grafici così disegnati?



$g(x) = -|f(x)|$

2. Determina l'equazione della curva simmetrica di quella di equazione $x^2 + y^2 - 2x - 1 = 0$ rispetto:
- all'asse x
 - alla retta di equazione $x = 2$
 - rispetto all'origine degli assi cartesiani
 - alla bisettrice del I e III quadrante

Soluzione a

Le equazioni della simmetria rispetto all'asse x sono: $S: \begin{cases} x' = +x \\ y' = -y \end{cases}$ da cui si ottengono $S^{-1}: \begin{cases} x = +x' \\ y = -y' \end{cases}$

Si ricava: $x'^2 + y'^2 - 2x' - 1 = 0$.

Soluzione b

Le equazioni della simmetria rispetto alla retta di equazione $x = 2$ sono: $S: \begin{cases} x' = 2a - x \\ y' = y \end{cases} \quad \begin{cases} x' = 2 \cdot 2 - x \\ y' = y \end{cases}$

da cui si ottengono $S^{-1}: \begin{cases} x = 4 - x' \\ y = y' \end{cases}$

Si ricava: $(4 - x')^2 + y'^2 - 2(4 - x') - 1 = 0;$ $16 + x'^2 - 8x' + y'^2 - 8 + 2x' - 1 = 0;$
 $x'^2 + y'^2 - 6x' + 7 = 0.$

Soluzione c

Le equazioni della simmetria rispetto all'origine degli assi cartesiani sono: $S: \begin{cases} x' = -x \\ y' = -y \end{cases}$

da cui si ottengono $S^{-1}: \begin{cases} x = -x' \\ y = -y' \end{cases}$

Si ricava: $x'^2 + y'^2 + 2x' - 1 = 0;$

Soluzione d

Le equazioni della simmetria rispetto alla bisettrice del I e III quadrante sono: $S: \begin{cases} x' = y \\ y' = x \end{cases}$

da cui si ottengono $S^{-1}: \begin{cases} x = y' \\ y = x' \end{cases}$

Si ricava: $x'^2 + y'^2 - 2y' - 1 = 0;$

$$\left[\begin{array}{ll} a: x^2 + y^2 - 2x - 1 = 0 & b: x^2 + y^2 - 6x + 7 = 0 \\ c: x^2 + y^2 + 2x - 1 = 0 & d: x^2 + y^2 - 2y - 1 = 0 \end{array} \right]$$

I punti $A(1; -2)$ e $A'(2; -4)$ si corrispondono in una traslazione. Determina:

- le equazioni della traslazione;
- le componenti del vettore di traslazione;
- l'equazione della funzione $y = f'(x)$ ottenuta traslando la funzione $y = f(x)$ di equazione $y = -3x^2 + 1$ secondo il vettore trovato;
- i grafici delle funzioni $y = f(x)$, $y = f'(x)$, $y = |f(x)|$.

Soluzione

Dalle equazioni della traslazione $\begin{cases} x' = x + a \\ y' = y + b \end{cases}$

si ricavano i due parametri a e b :

$$\begin{cases} +2 = +1 + a & \{ a = +1 \\ -4 = -2 + b & \{ b = -2 \end{cases}$$

Le equazioni della traslazione sono: $T : \begin{cases} x' = x + 1 \\ y' = y - 2 \end{cases}$

Il vettore traslazione è $\vec{v} = (1; -2)$.

Dalle equazioni della traslazione si ottiene: $T^{-1} : \begin{cases} x = x' - 1 \\ y = y' + 2 \end{cases}$

Sostituendo si ha:

$$y' + 2 = -3(x' - 1)^2 + 1;$$

$$y' + 2 = -3(x'^2 + 1 - 2x') + 1;$$

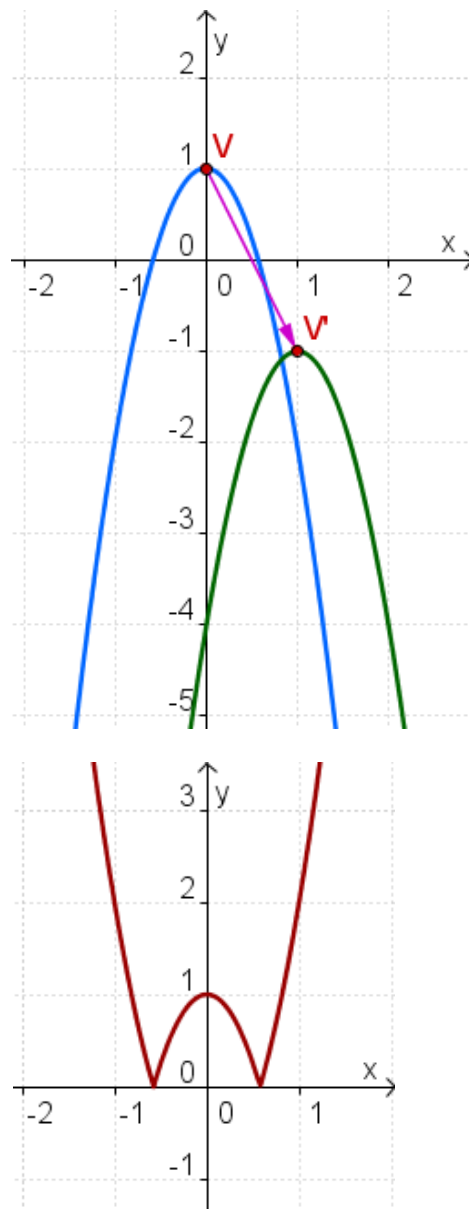
$$y' + 2 = -3x'^2 - 3 + 6x' + 1;$$

$$y' = -3x'^2 + 6x' - 4;$$

Utilizzando le variabili x e y si ha:

$$y = -3x^2 + 6x - 4$$

I grafici sono rappresentati a lato:



4. Calcola la somma: $100^2 - 99^2 + 98^2 - 97^2 + \dots + 2^2 - 1$

Soluzione

$$\begin{aligned} S &= 100^2 - 99^2 + 98^2 - 97^2 + \dots + 2^2 - 1 = \\ &= (100^2 + 98^2 + \dots + 2^2) - (99^2 + 97^2 + \dots + 3^2 + 1^2) = \\ &= 50 \cdot \frac{p_1 + p_{50}}{2} - 50 \cdot \frac{d_1 + d_{50}}{2} = 50 \cdot \frac{4 + 100^2}{2} - 50 \cdot \frac{1 + 99^2}{2} = \\ &= 25 \cdot [4 + 100^2 - (1 + 99^2)] = 25 \cdot (3 + 100^2 - 99^2) = \\ &= 25 \cdot [3 + (100 + 99) \cdot (100 - 99)] = 25 \cdot [3 + 199] = 5050 . \end{aligned}$$

5. Partendo da 2, quanti numeri pari consecutivi si devono sommare per ottenere 1260 ?

[Kangourou, 2003]

Soluzione

$$a_1 = 2, \quad a_2 = 4, \quad a_3 = 6, \quad \dots \quad a_n = 2n .$$

$$S_n = n \cdot \frac{a_1 + a_n}{2}; \quad 1260 = n \cdot \frac{a_1 + a_n}{2}; \quad 1260 = n \cdot \frac{2 + 2n}{2}; \quad 1260 = n \cdot \frac{2 \cdot (1 + n)}{2};$$

$$n \cdot (1 + n) = 1260; \quad n^2 + n - 1260 = 0;$$

$$\Delta = 1 + 5040 = 5041; \quad n_{1,2} = \frac{-1 \pm \sqrt{5041}}{2} = \begin{matrix} n_1 = \frac{-1-71}{2} = -36 \\ n_2 = \frac{-1+71}{2} = +35 \end{matrix} \Rightarrow n = 35 \text{ (perché } n \in \mathbb{N} \text{)} .$$