

**PROBLEMA 2**

**Punto 1**

La funzione  $f(x)$  è continua  $\forall x \in \mathbb{R}$ .

La funzione è derivabile  $\forall x \neq 2n + 1, n \in \mathbb{Z}$

La funzione  $f(x)$  è tale che  $-1 \leq f(x) \leq 1$ .

<p>Il limite <math>\lim_{x \rightarrow +\infty} f(x) = \nexists</math></p>	
<p>Infatti:                  - non è verificata la definizione di limite infinito per una funzione all'infinito perché la funzione è limitata <math>-1 \leq f(x) \leq +1</math>;                  - non è verificata la definizione di limite finito per una funzione all'infinito:                  perché se prendiamo un <math>\epsilon</math> tale che <math>0 &lt; \epsilon &lt; 1</math> non si riesce a determinare un valore <math>M &gt; 0</math> tale che <math>\forall x &gt; M \quad f(x) \in (l - \epsilon, l + \epsilon)</math></p>	

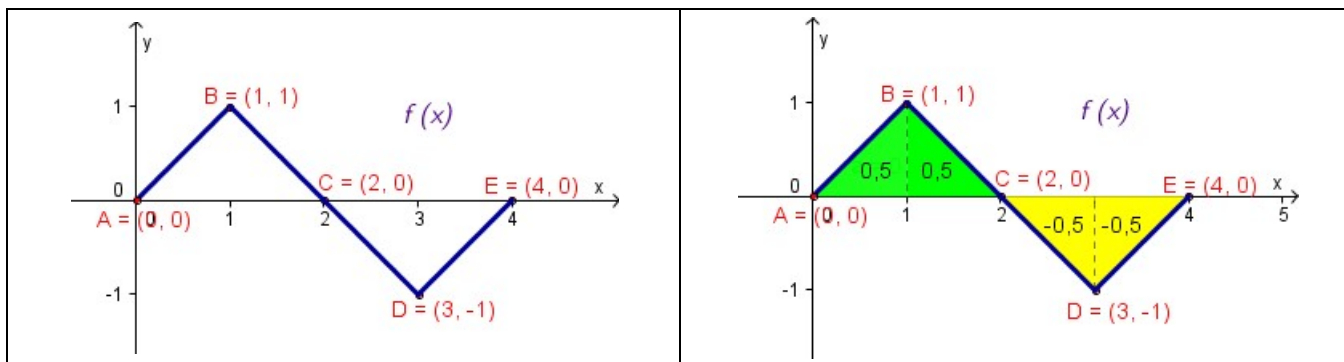
<p>Il limite <math>\lim_{x \rightarrow +\infty} \frac{f(x)}{x} = 0</math></p>	<p>Infatti per <math>x \rightarrow +\infty</math> la funzione è limitata dalle due funzioni: <math>-\frac{1}{x} \leq \frac{f(x)}{x} \leq \frac{1}{x}</math></p> <p>Essendo: <math>\lim_{x \rightarrow +\infty} -\frac{1}{x} = 0</math> e <math>\lim_{x \rightarrow +\infty} \frac{1}{x} = 0</math></p> <p>Per il Teorema del Confronto, si ha: <math>\lim_{x \rightarrow +\infty} \frac{f(x)}{x} = 0</math></p>
---	---

Il grafico della funzione  $g(x) = f'(x)$  nell'intervallo  $[0, 4]$  è sotto rappresentato.

La funzione non esiste nei punti  $x = 1$  e  $x = 3$  perché in essi la funzione non è derivabile.

<p><math>g(x) = f'(x) = \begin{cases} 1 &amp; 0 \leq x &lt; 1 \vee 3 &lt; x \leq 4 \\ -1 &amp; 1 &lt; x &lt; 3 \end{cases}</math></p>	
---	--

Il grafico della funzione  $h(x) = \int_0^x f(t) dt$  nell'intervallo  $[0, 4]$  si ricava effettuando le seguenti considerazioni sulla funzione  $f(x)$ .

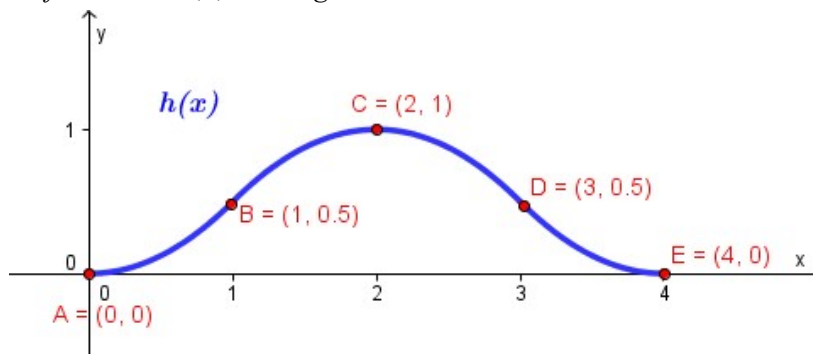


$x$	$f(x)$ è continua in $[0, 4]$ $f(x)$ è derivabile in $[0, 4] - \{1, 3\}$	$h(x)$ è continua e derivabile in $[0, 4]$	Punti
$x = 0$	$h'(0) = f(0) = 0$	$h(0) = \int_0^0 f(t) dt = 0$	$A(0; 0)$
$0 < x < 1$	$h'(x) = f(x) > 0$	$h(x)$ è positiva e crescente	
$x = 1$	$h'(1) = f(1) = 1$	Area = $h(1) = \int_0^1 f(t) dt = 0,5$	$B(1; 0,5)$
$1 < x < 2$	$h'(x) = f(x) > 0$	$h(x)$ è positiva e crescente	
$x = 2$	$h'(2) = f(2) = 0$	$h(2) = \int_0^2 f(t) dt = 1$ (massimo)	$C(2; 1)$
$2 < x < 3$	$h'(x) = f(x) < 0$	$h(x)$ è positiva e decrescente	
$x = 3$	$h'(3) = f(3) = -1$	$h(3) = \int_0^3 f(t) dt =$ $= \int_0^2 f(t) dt + \int_2^3 f(t) dt = 1 - 0,5 = 0,5$	$D(3; 0,5)$
$3 < x < 4$	$h'(x) = f(x) < 0$	$h(x)$ è positiva e decrescente	
$x = 4$	$h'(4) = f(4) = 0$	$h(4) = \int_0^4 f(t) dt =$ $= \int_0^2 f(t) dt + \int_2^4 f(t) dt = 1 - 1 = 0$	$E(4; 0)$

La concavità della funzione  $h(x)$  si ricava dalle informazioni sulla monotonia della funzione  $f'(x)$ .

$x$	$f(x)$	$h''(x) = f'(x)$	$h(x)$
$0 < x < 1$	$y = x$	$h''(x) = f'(x) = +1$	Concavità positiva
$1 < x < 3$	$y = -x + 2$	$h''(x) = f'(x) = -1$	Concavità negativa
$3 < x < 4$	$y = x + 4$	$h''(x) = f'(x) = +1$	Concavità positiva

Pertanto il grafico della funzione  $h(x)$  è il seguente:



### Punto 2.A

La funzione  $s(x) = \sin(bx)$  ha periodo  $\frac{2\pi}{b}$  con  $b \neq 0$ .

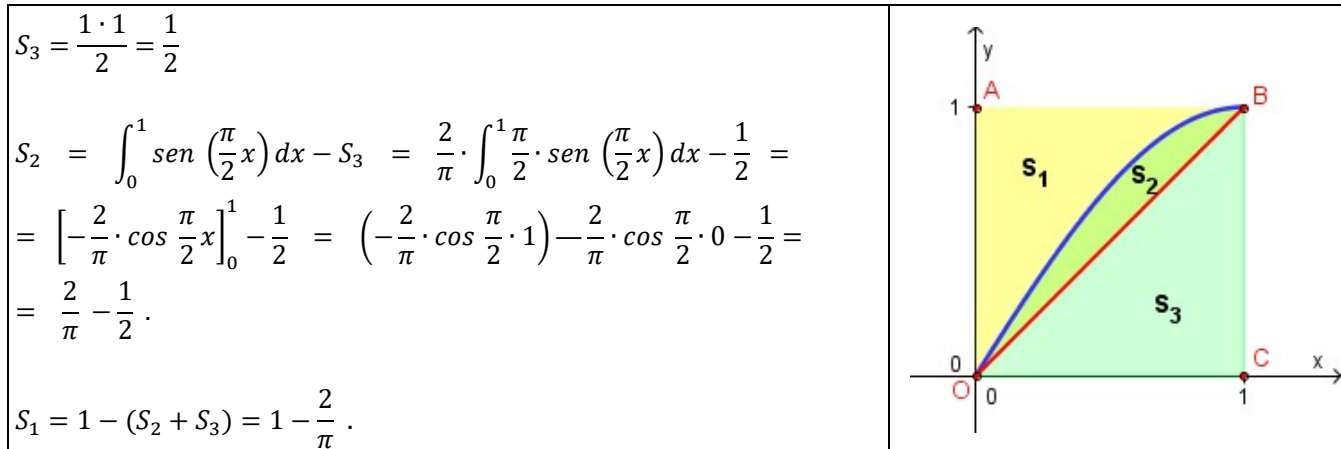
Le due funzioni  $s(x)$  e  $f(x)$  hanno lo stesso periodo se:  $\frac{2\pi}{b} = 4$  cioè  $b = \frac{\pi}{2}$ .

Pertanto la funzione  $s(x)$  è così definita:  $s(x) = \sin\left(\frac{\pi}{2}x\right)$ .

### Punto 2.B

Disegniamo i grafici delle funzioni  $s(x)$  e  $f(x)$  che rientrano nel quadrato  $OABC$ .

Determiniamo le aree delle tre zone in cui resta diviso il quadrato  $OABC$  dalle funzioni  $s(x)$  e  $f(x)$ .



Pertanto le probabilità richieste sono:

$$P(S_1) = \frac{1 - \frac{2}{\pi}}{1} = 1 - \frac{2}{\pi} \approx 36,3\%$$

$$P(S_2) = \frac{\frac{2}{\pi} - \frac{1}{2}}{1} = \frac{2}{\pi} - \frac{1}{2} \approx 13,7\%$$

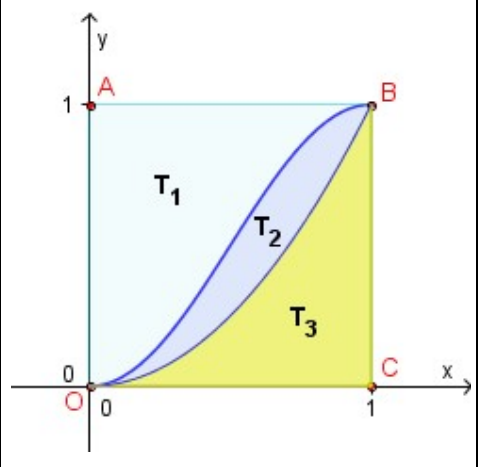
$$P(S_3) = \frac{\frac{1}{2}}{1} = \frac{1}{2} = 50,0\%$$

### Punto 3

Disegniamo i grafici delle funzioni  $s(x)^2$  e  $f(x)^2$  che rientrano nel quadrato OABC.

Determiniamo le aree delle tre zone in cui resta diviso il quadrato OABC dalle funzioni  $s(x)^2$  e  $f(x)^2$ .

$$\begin{aligned}T_3 &= \int_0^1 x^2 dx = \left[ \frac{x^3}{3} \right]_0^1 = \frac{1}{3} \\T_2 &= \int_0^1 \operatorname{sen}^2 \left( \frac{\pi}{2} x \right) dx - T_3 = (*) \\&= \left[ \frac{1}{2} \left[ x - \frac{2}{\pi} \cdot \operatorname{sen} \left( \frac{\pi}{2} x \right) \cdot \cos \left( \frac{\pi}{2} x \right) \right] \right]_0^1 - \frac{1}{3} = \\&= \frac{1}{2} \left[ 1 - \frac{2}{\pi} \cdot 1 \cdot 0 \right] - \frac{1}{2} \left[ 0 - \frac{2}{\pi} \cdot 0 \cdot 1 \right] - \frac{1}{3} = \\&= \frac{1}{2} \cdot 1 - \frac{1}{2} \cdot 0 - \frac{1}{3} = \frac{1}{2} - \frac{1}{3} = \frac{1}{6} \\T_1 &= 1 - T_2 - T_3 = 1 - \frac{1}{6} - \frac{1}{3} = \frac{3}{6} = \frac{1}{2}.\end{aligned}$$



Pertanto le probabilità richieste sono:

$$P(T_1) = \frac{\frac{1}{2}}{1} = \frac{1}{2} = 50,0\%$$

$$P(T_2) = \frac{\frac{1}{6}}{1} = \frac{1}{6} \approx 16,7\%$$

$$P(T_3) = \frac{\frac{1}{3}}{1} = \frac{1}{3} = 33,3\%$$

### (\*) Calcolo di $\int \operatorname{sen}^2 \left( \frac{\pi}{2} x \right) dx$

Utilizzando la formula di integrazione per parti:

$$\int g(x) \cdot f'(x) dx = g(x) \cdot f(x) - \int g'(x) \cdot f(x) dx$$

$$\begin{aligned}\text{Ponendo:} \quad g(x) &= \operatorname{sen} \left( \frac{\pi}{2} x \right) & f'(x) &= \operatorname{sen} \left( \frac{\pi}{2} x \right) \\g'(x) &= \frac{\pi}{2} \cdot \cos \left( \frac{\pi}{2} x \right) & f(x) &= -\frac{2}{\pi} \cos \left( \frac{\pi}{2} x \right)\end{aligned}$$

si ottiene:

$$\begin{aligned}\int \operatorname{sen}^2 \left( \frac{\pi}{2} x \right) dx &= \int \operatorname{sen} \left( \frac{\pi}{2} x \right) \cdot \operatorname{sen} \left( \frac{\pi}{2} x \right) dx = \\&= -\operatorname{sen} \left( \frac{\pi}{2} x \right) \cdot \frac{2}{\pi} \cos \left( \frac{\pi}{2} x \right) - \int -\frac{2}{\pi} \cos \left( \frac{\pi}{2} x \right) \cdot \frac{\pi}{2} \cos \left( \frac{\pi}{2} x \right) dx = \\&= -\frac{2}{\pi} \cdot \operatorname{sen} \left( \frac{\pi}{2} x \right) \cdot \cos \left( \frac{\pi}{2} x \right) + \int \cos^2 \left( \frac{\pi}{2} x \right) dx = \\&= -\frac{2}{\pi} \cdot \operatorname{sen} \left( \frac{\pi}{2} x \right) \cdot \cos \left( \frac{\pi}{2} x \right) + \int \left[ 1 - \operatorname{sen}^2 \left( \frac{\pi}{2} x \right) \right] dx = \\&= -\frac{2}{\pi} \cdot \operatorname{sen} \left( \frac{\pi}{2} x \right) \cdot \cos \left( \frac{\pi}{2} x \right) + x - \int \operatorname{sen}^2 \left( \frac{\pi}{2} x \right) dx.\end{aligned}$$

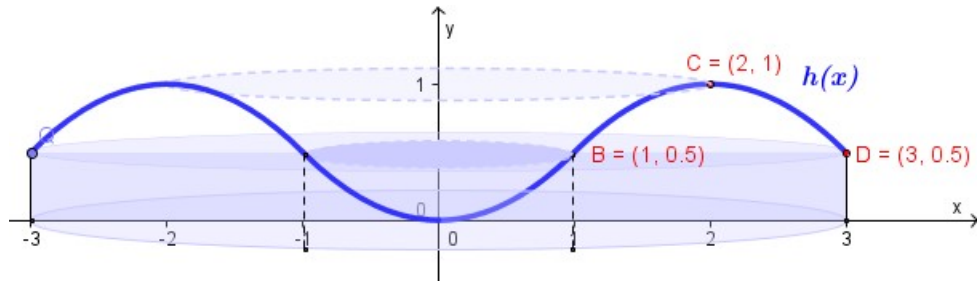
Pertanto:

$$\int \operatorname{sen}^2 \left( \frac{\pi}{2} x \right) dx = -\frac{2}{\pi} \cdot \operatorname{sen} \left( \frac{\pi}{2} x \right) \cdot \cos \left( \frac{\pi}{2} x \right) + x - \int \operatorname{sen}^2 \left( \frac{\pi}{2} x \right) dx$$

Da cui si ricava:

$$\begin{aligned}2 \int \operatorname{sen}^2 \left( \frac{\pi}{2} x \right) dx &= -\frac{2}{\pi} \cdot \operatorname{sen} \left( \frac{\pi}{2} x \right) \cdot \cos \left( \frac{\pi}{2} x \right) + x \\ \int \operatorname{sen}^2 \left( \frac{\pi}{2} x \right) dx &= \frac{1}{2} \left[ x - \frac{2}{\pi} \cdot \operatorname{sen} \left( \frac{\pi}{2} x \right) \cdot \cos \left( \frac{\pi}{2} x \right) \right].\end{aligned}$$

**Punto 4 – Soluzione 1**



La parabola passante per  $O(0;0)$  e  $B\left(1; \frac{1}{2}\right)$  ha equazione:  $h(x) = \frac{1}{2}x^2$

Infatti:  $h(x) = \int_0^x f(t) dt = \int_0^x t dt = \left[\frac{t^2}{2}\right]_0^x = \frac{1}{2}x^2$  .

La parabola passante per  $B, C$  e  $D$  ha equazione:  $h(x) = -\frac{1}{2}x^2 + 2x - 1$

Infatti:  $h(x) = \int_0^x f(t) dt = \int_0^1 f(t) dt + \int_1^x f(t) dt = h(1) + \int_1^x (2-t) dt =$   
 $= \frac{1}{2} \cdot 1^2 + \left[2t - \frac{t^2}{2}\right]_1^x = \frac{1}{2} + \left[2x - \frac{1}{2}x^2 - \left(2 - \frac{1}{2}\right)\right] = -\frac{1}{2}x^2 + 2x - 1$  .

Oppure

La parabola passante per i punti  $O$  e  $B$  ha equazione:  $y = ax^2$

Imponendo il passaggio per il punto  $B$  si ha:  $\frac{1}{2} = a \cdot 1^2$  ;  $a = \frac{1}{2} \Rightarrow y = \frac{1}{2}x^2$

La parabola passante per i punti  $B, C$  e  $D$  ha equazione:  $y = ax^2 + bx + c$

$$\begin{cases} -\frac{b}{2a} = 2 \\ 1 = 4a + 2b + c \\ \frac{1}{2} = a + b + c \end{cases} \quad \begin{cases} b = -4a \\ 1 = 4a + 2b + c \\ 1 = 2a + 2b + 2c \end{cases} \quad \begin{cases} 1 = 4a - 8a + c \\ 1 = 2a - 8a + 2c \end{cases} \quad \begin{cases} 1 = -4a + c \\ 1 = -6a + 2c \end{cases}$$

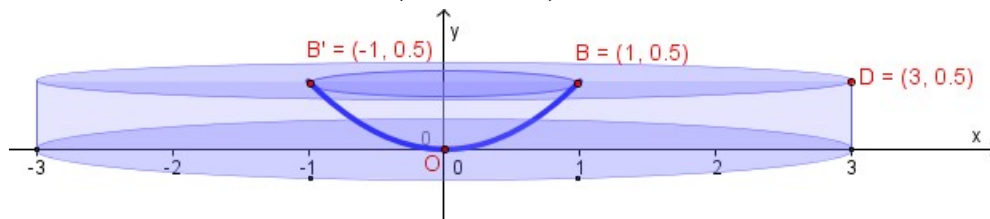
$$\begin{cases} c = 1 + 4a \\ 1 = -6a + 2(1 + 4a) \end{cases} \quad \begin{cases} 1 = -6a + 2 + 8a \end{cases} \quad \begin{cases} 2a = -1 \\ a = -\frac{1}{2} \end{cases}$$

$$\begin{cases} b = -4 \cdot \left(-\frac{1}{2}\right) = 2 \\ c = 1 + 4 \cdot \left(-\frac{1}{2}\right) = -1 \\ a = -\frac{1}{2} \end{cases} \Rightarrow y = -\frac{1}{2}x^2 + 2x - 1$$

La funzione  $h(x)$  risulta così definita:

$$h(x) = \begin{cases} \frac{1}{2}x^2 & 0 \leq x < 1 \\ -\frac{1}{2}x^2 + 2x - 1 & 1 \leq x \leq 3 \end{cases}$$

Determiniamo il volume della parte inferiore  $\left( 0 \leq y \leq \frac{1}{2} \right)$  di questa specie di ciambella.



Determiniamo la funzione inversa di  $y = \frac{1}{2}x^2$

$$2y = x^2; \quad x = -\sqrt{2y} \quad \text{arco di parabola } OB'$$

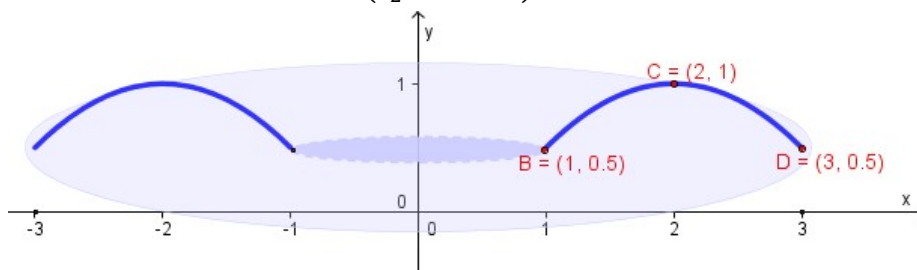
$$x = +\sqrt{2y} \quad \text{arco di parabola } OB$$

$$V_{\text{Inferiore}} = V_{\text{Cilindro}} - V_{\text{Vaschetta}} = \pi \cdot 3^2 \cdot \frac{1}{2} - \pi \cdot \int_0^{0,5} [f^{-1}(y)]^2 \cdot dy =$$

$$= \frac{9}{2}\pi - \pi \cdot \int_0^{0,5} [\sqrt{2y}]^2 dy = \frac{9}{2}\pi - \pi \cdot \int_0^{0,5} 2y dy =$$

$$= \frac{9}{2}\pi - \pi \cdot [y^2]_0^{0,5} = \frac{9}{2}\pi - \pi \cdot \left(\frac{1}{4} - 0\right) = \frac{18-1}{4}\pi = \frac{17}{4}\pi .$$

Determiniamo il volume della parte superiore  $\left( \frac{1}{2} \leq y \leq 1 \right)$  di questa specie di ciambella.



Determiniamo la funzione inversa di  $y = -\frac{1}{2}x^2 + 2x - 1$

$$\frac{1}{2}x^2 - 2x + 1 + y = 0; \quad x^2 - 4x + 2 + 2y = 0; \quad \frac{\Delta}{4} = 4 - 2 - 2y = 2 - 2y$$

$$x_{1,2} = 2 \pm \sqrt{2 - 2y}; \quad x = 2 - \sqrt{2 - 2y} \quad \text{arco di parabola } BC$$

$$x = 2 + \sqrt{2 - 2y} \quad \text{arco di parabola } CD$$

$$V_{\text{Superiore}} = \pi \cdot \int_{0,5}^1 [f_{CD}^{-1}(y)]^2 \cdot dy - \pi \cdot \int_{0,5}^1 [f_{BC}^{-1}(y)]^2 \cdot dy =$$

$$= \pi \cdot \int_{0,5}^1 (2 + \sqrt{2 - 2y})^2 dy - \pi \cdot \int_{0,5}^1 (2 - \sqrt{2 - 2y})^2 dy =$$

$$= \pi \cdot \int_{0,5}^1 [(2 + \sqrt{2 - 2y})^2 - (2 - \sqrt{2 - 2y})^2] dy =$$

$$= \pi \cdot \int_{0,5}^1 [(4 + 2 - 2y + 4\sqrt{2 - 2y}) - (4 + 2 - 2y - 4\sqrt{2 - 2y})] dy =$$

$$= \pi \cdot \int_{0,5}^1 [6 - 2y + 4\sqrt{2 - 2y} - 6 + 2y + 4\sqrt{2 - 2y}] dy =$$

$$= \pi \cdot \int_{0,5}^1 [8\sqrt{2 - 2y}] dy =$$

$$= 8\sqrt{2} \pi \cdot \int_{0,5}^1 \sqrt{1 - y} dy = (*)$$

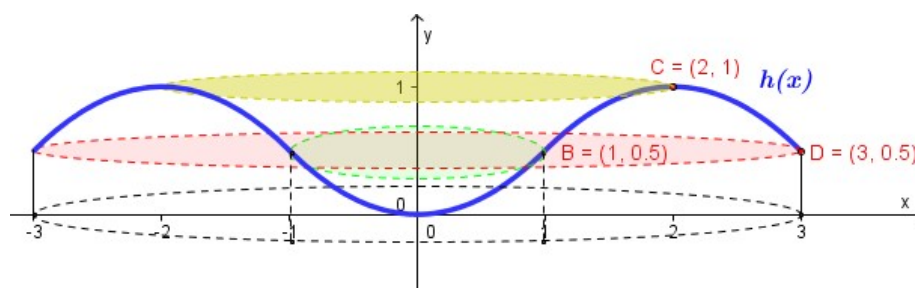
$$\begin{aligned}
&= 8\sqrt{2} \pi \cdot \left[ -\frac{2}{3} \sqrt{(1-y)^3} \right]_{0,5}^1 = 8\sqrt{2} \pi \cdot \left[ -\frac{2}{3} \sqrt{(1-1)^3} - \left( -\frac{2}{3} \sqrt{\left(1-\frac{1}{2}\right)^3} \right) \right] = \\
&= 8\sqrt{2} \pi \cdot \frac{2}{3} \cdot \frac{1}{2\sqrt{2}} = \frac{8}{3} \pi .
\end{aligned}$$

(\*) Calcolo di  $\int \sqrt{1-y} dy = -\int -1 \cdot (1-y)^{\frac{1}{2}} dy = -\frac{(1-y)^{\frac{3}{2}}}{\frac{3}{2}} + k = -\frac{2}{3} \sqrt{(1-y)^3} + k$ .

Pertanto il volume del solido di rotazione è:

$$V = V_{\text{Inferiore}} + V_{\text{Superiore}} = \frac{8}{3} \pi + \frac{17}{4} \pi = \frac{32 + 51}{12} \pi = \frac{83}{12} \pi .$$

### Punto 4 – Soluzione 2



Utilizzando il metodo dei gusci cilindrici si ha:

$$\begin{aligned}
V &= 2\pi \cdot \int_a^b x \cdot [h(x)] dx = 2\pi \cdot \int_0^3 x \cdot [h(x)] dx = 2\pi \cdot \left[ \int_0^1 x \cdot [h_1(x)] dx + \int_1^3 x \cdot [h_2(x)] dx \right] = \\
&= 2\pi \cdot \left[ \int_0^1 x \cdot \left[ \frac{1}{2} x^2 \right] dx + \int_1^3 x \cdot \left[ -\frac{1}{2} x^2 + 2x - 1 \right] dx \right] = \\
&= 2\pi \cdot \left[ \frac{1}{2} \cdot \int_0^1 x^3 dx + \int_1^3 \left[ -\frac{1}{2} x^3 + 2x^2 - x \right] dx \right] = \\
&= 2\pi \cdot \left[ \frac{1}{2} \cdot \left[ \frac{x^4}{4} \right]_0^1 + \left[ -\frac{1}{2} \cdot \frac{x^4}{4} + 2 \cdot \frac{x^3}{3} - \frac{x^2}{2} \right]_1^3 \right] = \\
&= 2\pi \cdot \left\{ \frac{1}{2} \cdot \frac{1}{4} + \left[ -\frac{1}{2} \cdot \frac{81}{4} + 2 \cdot \frac{27}{3} - \frac{9}{2} - \left( -\frac{1}{2} \cdot \frac{1}{4} + 2 \cdot \frac{1}{3} - \frac{1}{2} \right) \right] \right\} = \\
&= 2\pi \cdot \left\{ \frac{1}{8} + \left[ -\frac{81}{8} + \frac{54}{3} - \frac{9}{2} - \left( -\frac{1}{8} + \frac{2}{3} - \frac{1}{2} \right) \right] \right\} = \\
&= 2\pi \cdot \left\{ \frac{1}{8} + \left[ -\frac{81}{8} + \frac{54}{3} - \frac{9}{2} - \left( \frac{-3 + 16 - 12}{24} \right) \right] \right\} = \\
&= 2\pi \cdot \left\{ \frac{1}{8} + \left[ -\frac{81}{8} + \frac{54}{3} - \frac{9}{2} - \frac{1}{24} \right] \right\} = \\
&= 2\pi \cdot \left\{ \frac{1}{8} + \left[ \frac{-243 + 432 - 108 - 1}{24} \right] \right\} = \\
&= 2\pi \cdot \left\{ \frac{1}{8} + \frac{80}{24} \right\} = \\
&= 2\pi \cdot \left\{ \frac{3 + 80}{24} \right\} = \frac{83}{12} \pi .
\end{aligned}$$