

PIANO NAZIONALE INFORMATICA

**Problema 1**

Punto 1

Per studiare la monotonia della funzione  $g(x) = a^x + a^{-x}$  occorre esaminare il segno della derivata prima

$$g'(x) = a^x \cdot \ln a - a^{-x} \ln a = \ln a \cdot (a^x - a^{-x}).$$

Essendo, per ipotesi,  $a > 0$ , occorre distinguere i seguenti due casi:

✖  $a > 1$

$$\text{Per } a > 1, \ln a > 0 \Rightarrow g'(x) > 0 \text{ quando } a^x - a^{-x} > 0$$

$$\text{e cioè: } a^x > a^{-x}; \quad x > -x; \quad 2x > 0; \quad x > 0.$$

✖  $0 < a < 1$

$$\text{Per } 0 < a < 1, \ln a < 0 \Rightarrow g'(x) > 0 \text{ quando } a^x - a^{-x} < 0$$

$$\text{e cioè: } a^x < a^{-x}; \text{ ed essendo la base } 0 < a < 1 \text{ cambia il verso della disuguaglianza,} \\ \text{cioè: } x > -x; \quad 2x > 0; \quad x > 0.$$

Pertanto, in entrambi i casi si ha che:

$$g'(x) > 0 \text{ per } x > 0 \quad \text{e} \quad g'(x) < 0 \text{ per } x < 0.$$

Ciò equivale a dire che:

$$g(x) \text{ è strettamente crescente per } x > 0$$

$$g(x) \text{ è strettamente decrescente per } x < 0.$$

Punto 2a

Il grafico della funzione  $f(x) = e^x + e^{-x}$  si ottiene dallo studio dei seguenti punti:

- La funzione è definita e continua in  $(-\infty, +\infty)$ .

- La funzione presenta una simmetria rispetto all'asse  $x$ , infatti:

$$f(-x) = e^{-x} + e^{-(-x)} = e^{-x} + e^x = f(x).$$

- Le intersezioni con gli assi cartesiani sono:

$$\begin{cases} y = e^x + e^{-x} \\ x = 0 \end{cases} \quad \begin{cases} y = e^0 + e^0 \\ x = 0 \end{cases} \quad \begin{cases} y = 1 + 1 \\ x = 0 \end{cases} \quad \begin{cases} y = 2 \\ x = 0 \end{cases} \quad A(0;2)$$

$$\begin{cases} y = e^x + e^{-x} \\ y = 0 \end{cases} \quad \begin{cases} 0 = e^x + e^{-x} \\ y = 0 \end{cases} \quad \begin{cases} e^x = -e^{-x} \\ y = 0 \end{cases} \quad \text{Sistema impossibile perché:} \\ \text{il I}^\circ \text{ membro è sempre positivo,} \\ \text{mentre il II}^\circ \text{ è sempre negativo.}$$

- La curva non ha asintoti di alcun genere, infatti:

La curva non ha asintoti verticali, perché la funzione è continua su tutto l'asse reale.

La curva non ha asintoti orizzontali perché:

$$\lim_{x \rightarrow +\infty} (e^x + e^{-x}) = +\infty \quad \text{poiché} \quad \lim_{x \rightarrow +\infty} e^x = +\infty \quad \text{e} \quad \lim_{x \rightarrow +\infty} e^{-x} = 0$$

$$\lim_{x \rightarrow -\infty} (e^x + e^{-x}) = +\infty \quad \text{poiché} \quad \lim_{x \rightarrow -\infty} e^x = 0 \quad \text{e} \quad \lim_{x \rightarrow -\infty} e^{-x} = +\infty$$

La curva non ha asintoti obliqui del tipo  $y = mx + q$  perché:

$$m = \lim_{x \rightarrow \pm\infty} \frac{f(x)}{x} = \lim_{x \rightarrow \pm\infty} \frac{e^x + e^{-x}}{x} = \frac{+\infty}{\pm\infty} \stackrel{H}{=} \lim_{x \rightarrow \pm\infty} \frac{e^x - e^{-x}}{1} = +\infty.$$

- La derivata prima è:  $f'(x) = e^x - e^{-x}$ . Essa si annulla in  $x = 0$ , infatti:

$$e^x - e^{-x} = 0; \quad e^x = e^{-x}; \quad x = -x; \quad 2x = 0; \quad x = 0.$$

- Dallo studio del punto 1 si conosce la monotonia della funzione:

$f(x)$  è strettamente crescente per  $x > 0$

$f(x)$  è strettamente decrescente per  $x < 0$

Pertanto in  $x = 0$  c'è un minimo relativo ed assoluto.

Il punto di minimo assoluto ha coordinate  $A(0; 2)$

(coordinate trovate in precedenza).

- La derivata seconda è:  $f''(x) = e^x + e^{-x}$ .

Essa non si annulla mai, infatti:

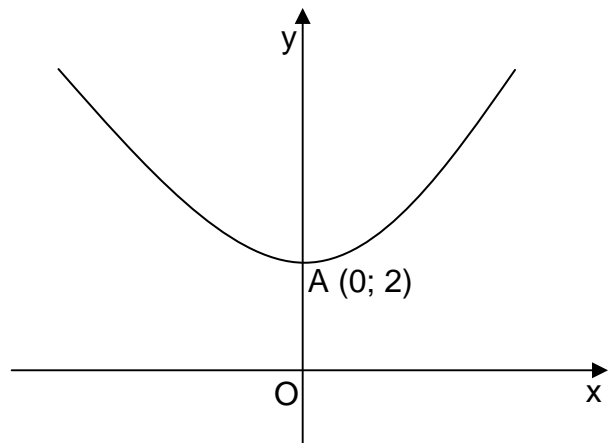
$e^x + e^{-x} = 0; \quad e^x = -e^{-x}$ ; equazione impossibile, perché il I° membro è sempre positivo, mentre il II° è sempre negativo.

- La derivata seconda è sempre positiva, poiché

$e^x + e^{-x}$  è la somma di due quantità sempre positive.

Pertanto la curva volge la concavità sempre verso

l'alto.



### Punto 2b

La funzione  $h(x) = \frac{1}{f(x)} = \frac{1}{e^x + e^{-x}}$  ha anche la seguente espressione:  $h(x) = \frac{e^x}{1 + e^{2x}}$ , infatti:

$$h(x) = \frac{1}{f(x)} = \frac{1}{e^x + e^{-x}} = \frac{1}{e^x + \frac{1}{e^x}} = \frac{1}{\frac{(e^x)^2 + 1}{e^x}} = \frac{e^x}{1 + e^{2x}}.$$

Il suo grafico si ottiene dallo studio dei seguenti punti:

- La funzione è definita e continua in  $(-\infty, +\infty)$ , infatti il denominatore non si annulla mai, perchè somma di quantità sempre positive.

- La funzione presenta una simmetria rispetto all'asse  $x$ , infatti:

$$f(-x) = \frac{1}{e^{-x} + e^{-(-x)}} = \frac{1}{e^{-x} + e^x} = f(x)$$

- Le intersezioni con gli assi cartesiani sono:

$$\begin{cases} y = \frac{1}{e^x + e^{-x}} \\ x = 0 \end{cases} \quad \begin{cases} y = \frac{1}{e^0 + e^0} \\ x = 0 \end{cases} \quad \begin{cases} y = \frac{1}{1+1} \\ x = 0 \end{cases} \quad \begin{cases} y = \frac{1}{2} \\ x = 0 \end{cases} \quad \begin{cases} y = \frac{1}{2} \\ x = 0 \end{cases} \quad A\left(0; \frac{1}{2}\right)$$

$$\begin{cases} y = \frac{1}{e^x + e^{-x}} \\ y = 0 \end{cases} \quad \begin{cases} 0 = \frac{1}{e^x + e^{-x}} \\ y = 0 \end{cases} \quad \begin{cases} 0 = 1 \\ y = 0 \end{cases} \quad \text{Sistema impossibile.}$$

- La curva non ha asintoti verticali, perché la funzione è continua su tutto l'asse reale.

La curva ha l'asintoto orizzontale  $y = 0$  (a destra e a sinistra), infatti:

$$\lim_{x \rightarrow +\infty} \frac{1}{e^x + e^{-x}} = 0 \quad \text{poiché} \quad \lim_{x \rightarrow +\infty} e^x = +\infty \quad \text{e} \quad \lim_{x \rightarrow +\infty} e^{-x} = 0$$

$$\lim_{x \rightarrow -\infty} \frac{1}{e^x + e^{-x}} = 0 \quad \text{poiché} \quad \lim_{x \rightarrow -\infty} e^x = 0 \quad \text{e} \quad \lim_{x \rightarrow -\infty} e^{-x} = +\infty$$

La curva non ha asintoti obliqui.

- La derivata prima è:  $f'(x) = \frac{-e^x + e^{-x}}{(e^x + e^{-x})^2}$ , Infatti:

$$f'(x) = \frac{0 \cdot (e^x + e^{-x}) - 1 \cdot (e^x - e^{-x})}{(e^x + e^{-x})^2} = \frac{-e^x + e^{-x}}{(e^x + e^{-x})^2}$$

- La derivata prima si annulla in  $x = 0$ , infatti:

$$\frac{-e^x + e^{-x}}{(e^x + e^{-x})^2} = 0; \quad -e^x + e^{-x} = 0; \quad e^x = e^{-x}; \quad x = -x; \quad 2x = 0; \quad x = 0.$$

- La derivata prima è positiva per  $x < 0$ , mentre è negativa per  $x > 0$ , infatti:

$$\frac{-e^x + e^{-x}}{(e^x + e^{-x})^2} > 0; \quad -e^x + e^{-x} > 0; \quad e^{-x} > e^x; \quad -x > x; \quad -2x > 0; \quad x < 0.$$

- Pertanto in  $x = 0$  c'è un massimo relativo ed assoluto.

Il punto di massimo assoluto ha coordinate  $A\left(0; \frac{1}{2}\right)$  (coordinate trovate in precedenza).

- La derivata seconda è:  $f''(x) = \frac{e^{2x} + e^{-2x} - 6}{(e^x + e^{-x})^3}$ , infatti:

$$\begin{aligned} f''(x) &= \frac{(-e^x - e^{-x}) \cdot (e^x + e^{-x})^2 - (-e^x + e^{-x}) \cdot 2 \cdot (e^x + e^{-x}) \cdot (e^x - e^{-x})}{[(e^x + e^{-x})^2]^2} = \\ &= \frac{(e^x + e^{-x}) \cdot [(-e^x - e^{-x}) \cdot (e^x + e^{-x}) - (-e^x + e^{-x}) \cdot 2 \cdot (e^x - e^{-x})]}{(e^x + e^{-x})^4} = \\ &= \frac{(-e^x - e^{-x}) \cdot (e^x + e^{-x}) - (-e^x + e^{-x}) \cdot 2 \cdot (e^x - e^{-x})}{(e^x + e^{-x})^3} = \\ &= \frac{-(e^x + e^{-x}) \cdot (e^x + e^{-x}) + 2 \cdot (e^x - e^{-x}) \cdot (e^x - e^{-x})}{(e^x + e^{-x})^3} = \frac{-(e^x + e^{-x})^2 + 2 \cdot (e^x - e^{-x})^2}{(e^x + e^{-x})^3} = \\ &= \frac{-e^{2x} - e^{-2x} - 2 \cdot e^x \cdot e^{-x} + 2 \cdot (e^{2x} + e^{-2x} - 2 \cdot e^x \cdot e^{-x})}{(e^x + e^{-x})^3} = \\ &= \frac{-e^{2x} - e^{-2x} - 2 + 2e^{2x} + 2e^{-2x} - 4}{(e^x + e^{-x})^3} = \frac{e^{2x} + e^{-2x} - 6}{(e^x + e^{-x})^3}. \end{aligned}$$

- La derivata seconda si annulla in  $x_1 = \log_2(\sqrt{2} - 1)$  e  $x_2 = \log_2(\sqrt{2} + 1)$ , infatti:

$$\frac{e^{2x} + e^{-2x} - 6}{(e^x + e^{-x})^3} = 0; \quad e^{2x} + e^{-2x} - 6 = 0;$$

Ponendo  $e^{2x} = t$ ; si ottiene l'equazione:  $t + \frac{1}{t} - 6 = 0$ ;  $t^2 - 6t + 1 = 0$ ;

$$t_{1,2} = -b/2 \pm \sqrt{(b/2)^2 - c} = 3 \pm \sqrt{9-1} = 3 \pm \sqrt{8} = 3 \pm 2\sqrt{2}.$$

Ritornando alla incognita  $x$  si ottiene:  $e^{2x} = 3 \pm 2\sqrt{2}$ ; applicando il  $\log_e$  ad ambo i membri si ha:

$$\log_e e^{2x} = \log_e(3 \pm 2\sqrt{2}); \quad 2x \cdot \log_e e = \log_e(3 \pm 2\sqrt{2}); \quad \text{essendo } \log_e e = 1 \text{ si ottiene:}$$

$$2x = \log_e(3 \pm 2\sqrt{2}); \quad \text{da cui:}$$

$$x = \frac{1}{2} \cdot \log_e(3 \pm 2\sqrt{2}) = \log_e(3 \pm 2\sqrt{2})^{\frac{1}{2}} = \log_e \sqrt{3 \pm 2\sqrt{2}} = \log_e \sqrt{2+1 \pm 2\sqrt{2}} =$$

$$= \log_e \sqrt{(\sqrt{2} \pm 1)^2} = \log_e(\sqrt{2} \pm 1) = \begin{matrix} \log_e(\sqrt{2}-1) \cong -0,88 \\ \log_e(\sqrt{2}+1) \cong +0,88 \end{matrix}$$

- La derivata seconda è positiva per  $x < \log_2(\sqrt{2}-1)$  e  $x > \log_2(\sqrt{2}+1)$
- La derivata seconda è negativa per  $\log_2(\sqrt{2}-1) < x < \log_2(\sqrt{2}+1)$ , infatti:

$$\frac{e^{2x} + e^{-2x} - 6}{(e^x + e^{-x})^3} > 0 ; \text{ essendo il denominatore sempre positivo (somma di quantità sempre positive) è}$$

sufficiente studiare soltanto il segno del numeratore:  $e^{2x} + e^{-2x} - 6 > 0$  ;

Ponendo  $e^{2x} = t$  ; si ottiene la disequazione:  $t + \frac{1}{t} - 6 > 0$  ;  $t^2 - 6t + 1 > 0$  ; le cui soluzioni

sono:  $t < 3 - 2\sqrt{2}$  e  $t > 3 + 2\sqrt{2}$  Ritornando alla incognita  $x$  si ottengono:

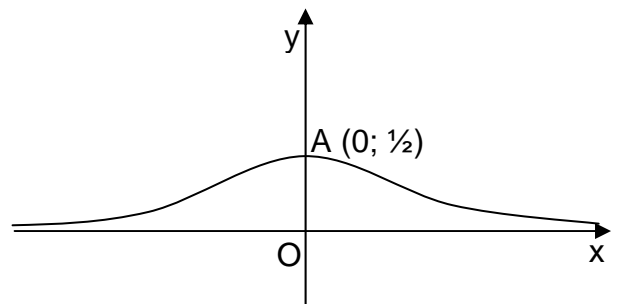
$x < \log_e(\sqrt{2}-1)$  e  $x > \log_e(\sqrt{2}+1)$ , in tale

intervallo la curva volge la concavità verso l'alto.

Per  $\log_e(\sqrt{2}-1) < x < \log_e(\sqrt{2}+1)$  la curva volge

la concavità verso il basso.

- Per  $x_1 = \log_2(\sqrt{2}-1)$  e  $x_2 = \log_2(\sqrt{2}+1)$  si hanno due Flessi.
- Il grafico è quello a lato.



### Osservazione

Il grafico della funzione  $h(x) = \frac{1}{f(x)}$  poteva essere ricavato in maniera sommaria, dalle seguenti considerazioni:

$f(x)$	$\frac{1}{f(x)}$
Crescente in $(a, b)$	Decrescente in $(a, b)$
Decrescente in $(a, b)$	Crescente in $(a, b)$
$x_0$ Max relativo	$x_0$ Min relativo
$x_0$ Min relativo	$x_0$ Max relativo
Si annulla in $x_0$	Non è definita in $x_0$
$\rightarrow \infty$	$\rightarrow 0$
$\rightarrow 0$	$\rightarrow \infty$

### Punto 3

Occorre calcolare innanzitutto l'integrale indefinito  $\int \frac{1}{f(x)} dx$ .

$$\int \frac{1}{f(x)} dx = \int \frac{1}{e^x + e^{-x}} dx = \int \frac{1}{e^x + \frac{1}{e^x}} dx = \int \frac{1}{\frac{(e^x)^2 + 1}{e^x}} dx = \int \frac{e^x}{1 + (e^x)^2} dx = \operatorname{arctg} e^x + k$$

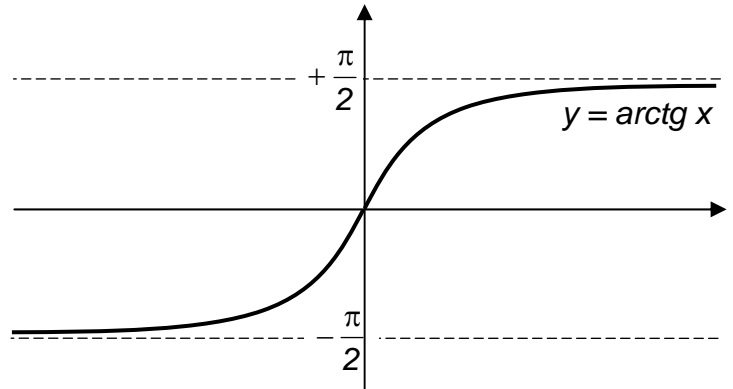
ottenuto applicando l'integrale immediato  $\int \frac{f'(x)}{1+[f(x)]^2} dx = \operatorname{arctg} f(x) + k$ .

Pertanto l'integrale improprio vale:

$$\int_0^t \frac{1}{f(x)} dx = [\operatorname{arctg} e^x]_0^t = \operatorname{arctg} e^t - \operatorname{arctg} e^0 = \operatorname{arctg} e^t - \frac{\pi}{4}.$$

Essendo poi il  $\lim_{t \rightarrow +\infty} \operatorname{arctg} e^t = +\frac{\pi}{2}$

(grafico a lato) si ha:

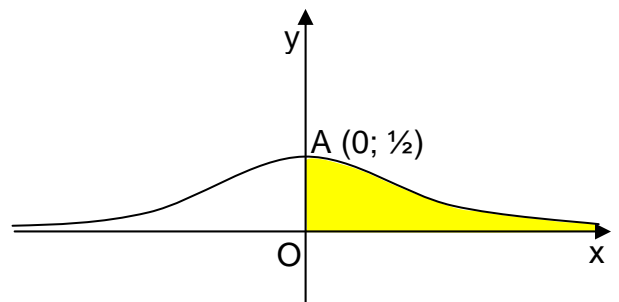


$$\lim_{t \rightarrow +\infty} \left[ \int_0^t \frac{1}{f(x)} dx \right] = \lim_{t \rightarrow +\infty} \left[ \operatorname{arctg} e^t - \frac{\pi}{4} \right] =$$

$$\frac{\pi}{2} - \frac{\pi}{4} = \frac{\pi}{4}.$$

Tale limite rappresenta l'area della regione illimitata compresa fra il grafico della funzione  $\frac{1}{f(x)}$  e l'asse  $x$  nell'intervallo  $(0, +\infty)$ .

Esso è chiamato integrale improprio o generalizzato.



$$\int_0^{+\infty} \frac{1}{e^x + e^{-x}} dx = \lim_{t \rightarrow +\infty} \int_0^t \frac{1}{e^x + e^{-x}} dx$$

#### Punto 4

Ricordando che  $\int_0^1 \frac{1}{1+x^2} dx = [\arctg x]_0^1 = \frac{\pi}{4} \cong 0,7853981634$ .

Per calcolare un valore approssimato di  $\frac{\pi}{4}$  si può utilizzare uno dei seguenti metodi:

Metodo dei rettangoli

$$\int_{x_0}^{x_n} f(x) dx \cong \frac{x_n - x_0}{n} \cdot \left[ \sum_{i=0}^{n-1} f(x_i) \right] \quad \text{oppure} \quad \int_{x_0}^{x_n} f(x) dx \cong \frac{x_n - x_0}{n} \cdot \left[ \sum_{i=1}^n f(x_i) \right]$$

Metodo dei trapezi

$$\int_{x_0}^{x_n} f(x) dx \cong \frac{x_n - x_0}{n} \cdot \left[ \frac{f(x_0) + f(x_n)}{2} + \sum_{i=1}^{n-1} f(x_i) \right]$$

Metodo delle parabole

$$\int_{x_0}^{x_n} f(x) dx \cong \frac{1}{3} \cdot \frac{x_n - x_0}{n} \cdot [f(x_0) + f(x_n) + 4 \cdot [f(x_1) + f(x_3) + \dots + f(x_{n-1})] + 2 \cdot [f(x_2) + f(x_4) + \dots + f(x_{n-2})]]$$

con  $n$  numero pari.

Le tre procedure portano ad un calcolo sempre più preciso dell'area con l'aumentare del numero  $n$  di suddivisioni dell'intervallo  $(0; 1)$  in intervallini di ampiezza  $\frac{x_n - x_0}{n}$ .

Il calcolo può essere effettuato in modo veloce utilizzando un foglio elettronico come Microsoft Excel (vedi il file *Integrazione numerica.xls*).

Utilizzando il Metodo dei trapezi e suddividendo l'intervallo  $(0; 1)$  in 10 intervallini si ottiene:

$$\int_0^1 \frac{1}{1+x^2} dx \cong S_{10} = \frac{1-0}{10} \cdot \left[ \frac{f(0)+f(1)}{2} + \sum_{i=1}^9 f(x_i) \right].$$

Essendo:

$$\begin{array}{lll} f(0) = \frac{1}{1+0^2} = 1 & f\left(\frac{1}{10}\right) = \frac{1}{1+\frac{1}{100}} = \frac{100}{101} & f\left(\frac{2}{10}\right) = \frac{1}{1+\frac{4}{100}} = \frac{100}{104} \\ f\left(\frac{3}{10}\right) = \frac{1}{1+\frac{9}{100}} = \frac{100}{109} & f\left(\frac{4}{10}\right) = \frac{1}{1+\frac{16}{100}} = \frac{100}{116} & f\left(\frac{5}{10}\right) = \frac{1}{1+\frac{25}{100}} = \frac{100}{125} \\ f\left(\frac{6}{10}\right) = \frac{1}{1+\frac{36}{100}} = \frac{100}{136} & f\left(\frac{7}{10}\right) = \frac{1}{1+\frac{49}{100}} = \frac{100}{149} & f\left(\frac{8}{10}\right) = \frac{1}{1+\frac{64}{100}} = \frac{100}{164} \\ f\left(\frac{9}{10}\right) = \frac{1}{1+\frac{81}{100}} = \frac{100}{181} & f(1) = \frac{1}{1+1^2} = \frac{1}{2} & \end{array}$$

Si ottiene:

$$\begin{aligned}
S_{10} &= \frac{1}{10} \cdot \left[ \frac{1 + \frac{1}{2}}{2} + \frac{100}{101} + \frac{100}{104} + \frac{100}{109} + \frac{100}{116} + \frac{100}{125} + \frac{100}{136} + \frac{100}{149} + \frac{100}{164} + \frac{100}{181} \right] \cong \\
&\cong \frac{1}{10} \cdot [0,75 + 0,9901 + 0,9615 + 0,9174 + 0,8621 + 0,8 + 0,7353 + 0,6711 + 0,6098 + 0,5525] \cong \\
&\cong \frac{1}{10} \cdot 7,8498 \cong 0,785 .
\end{aligned}$$